

Cyclistes et chauffeurs STIB, ensemble sur la route !

QUIZ - 10 questions à choix multiples



QUESTION 1 :

Que signifient ces marquages au sol ?



- A. Ils indiquent où le cycliste doit se positionner
- B. Ils indiquent un itinéraire conseillé aux cyclistes
- C. Ils indiquent où le cycliste peut se positionner

QUESTION 1 :

Que signifient ces marquages au sol ?



- A. Ils indiquent où le cycliste doit se positionner
- B. Ils indiquent un itinéraire conseillé aux cyclistes
- C. Ils indiquent où le cycliste peut se positionner



QUESTION 2 :

Sur ce site spécial franchissable, un cycliste se retrouve devant ces feux. Quel feu doit-il respecter ?



- A. Le feu tricolore**
- B. Le feu des transports en commun**
- C. Le premier qui passe au vert**

QUESTION 2 :

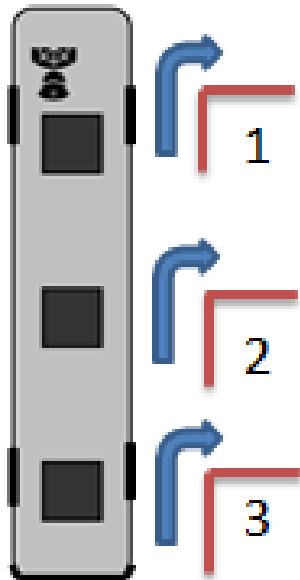
Sur ce site spécial franchissable, un cycliste se retrouve devant ces feux. Quel feu doit-il respecter ?



- A. Le feu tricolore
- B. Le feu des transports en commun ✓
- C. Le premier qui passe au vert

QUESTION 3 :

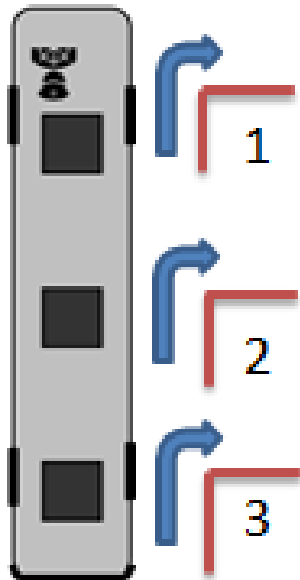
À quel endroit puis-je commencer à tourner avec un bus ?



- A. Une fois la roue avant passée
- B. Une fois le milieu du bus passé
- C. Une fois la roue arrière passée

QUESTION 3 :

À quel endroit puis-je commencer à tourner avec un bus ?



- A. Une fois la roue avant passée
- B. Une fois le milieu du bus passé
- C. Une fois la roue arrière passée



QUESTION 4 :

Dans ce rond-point à une bande, où se positionne le cycliste ?



- A. Il doit rouler au milieu.
- B. Il doit serrer sa droite, à un mètre du bord de la chaussée.
- C. Il peut choisir où il se positionne.

QUESTION 4 :

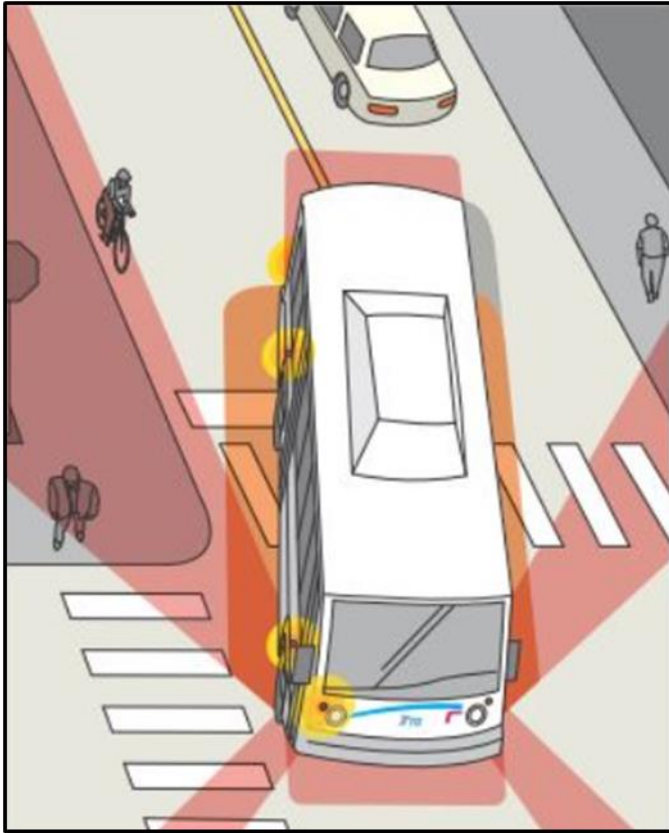
Dans ce rond-point à une bande, où se positionne le cycliste ?



- A. Il doit rouler au milieu.
- B. Il doit serrer sa droite, à un mètre du bord de la chaussée.
- C. Il peut choisir où il se positionne. ✓

QUESTION 5 :

De combien d'angles morts le chauffeur doit-il tenir compte en conduisant un bus ?



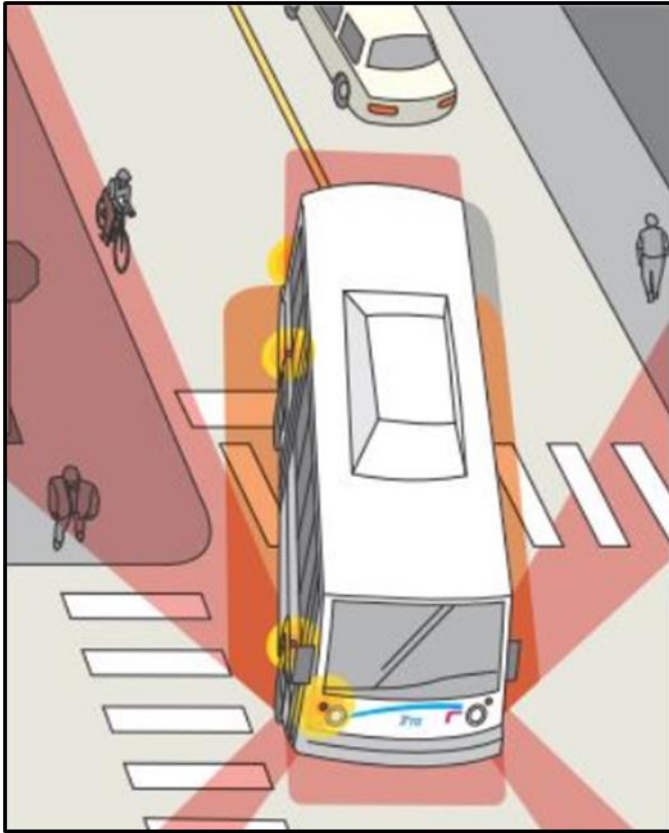
A. 4

B. 6

C. 8

QUESTION 5 :

De combien d'angles morts le chauffeur doit-il tenir compte en conduisant un bus ?



A. 4

B. 6

C. 8



QUESTION 6 :

Le cycliste qui souhaite traverser cette chaussée est-il prioritaire ?



- A. Non, en traversant, le cycliste doit céder la priorité à droite uniquement
- B. Oui, il est sur une piste cyclable et il a donc priorité sur tous les autres conducteurs
- C. Non, en traversant, il doit céder le passage à tous les autres conducteurs.

QUESTION 6 :

Le cycliste qui souhaite traverser cette chaussée est-il prioritaire ?



- A. Non, en traversant, le cycliste doit céder la priorité à droite uniquement
- B. Oui, il est sur une piste cyclable et il a donc priorité sur tous les autres conducteurs ✓
- C. Non, en traversant, il doit céder le passage à tous les autres conducteurs.

QUESTION 7 :

Qu'enseigne le centre de formation STIB à ses apprentis chauffeurs sur les sites partagés BUS+vélo ?



- A. Les chauffeurs doivent être attentifs aux cyclistes tout en veillant à respecter leur horaire.
- B. Il est inutile et dangereux de dépasser un cycliste. Il nous dépassera de toute façon au prochain arrêt.
- C. Les cyclistes sont tolérés sur les bandes bus mais doivent céder le passage aux bus.

QUESTION 7 :

Qu'enseigne le centre de formation STIB à ses apprentis chauffeurs sur les sites partagés BUS+vélo ?



- A. Les chauffeurs doivent être attentifs aux cyclistes tout en veillant à respecter leur horaire.
- B. Il est inutile et dangereux de dépasser un cycliste. Il nous dépassera de toute façon au prochain arrêt. ✓
- C. Les cyclistes sont tolérés sur les bandes bus mais doivent céder le passage aux bus.

QUESTION 8 :

Ces deux cyclistes roulent côte à côte en ville.



- A. Ils sont en infraction, il est interdit de rouler à deux de front.
- B. Ils peuvent toujours circuler à deux de front tant que le croisement reste possible.
- C. Ils peuvent toujours circuler à deux de front mais doivent se remettre en file indienne lorsqu'un véhicule arrive par l'arrière.

QUESTION 8 :

Ces deux cyclistes roulent côte à côte en ville.



!!! Attention, il est interdit de rouler à deux de front dans les bandes bus et sites spéciaux franchissables ouverts aux cyclistes !!!

- A. Ils sont en infraction, il est interdit de rouler à deux de front.
- B. Ils peuvent toujours circuler à deux de front tant que le croisement reste possible. ✓
- C. Ils peuvent toujours circuler à deux de front mais doivent se remettre en file indienne lorsqu'un véhicule arrive par l'arrière.

QUESTION 9 :

Dans un sens unique limité (SUL), qui a priorité lors du croisement entre un vélo et une voiture ?



- A. Aucun véhicule n'est prioritaire.
- B. La voiture. Le cycliste venant à contresens doit s'arrêter, et monter sur le trottoir au besoin.
- C. Le cycliste. La voiture doit s'arrêter pour permettre le croisement.

QUESTION 9 :

Dans un sens unique limité (SUL), qui a priorité lors du croisement entre un vélo et une voiture ?



- A. Aucun véhicule n'est prioritaire. ✓
- B. La voiture. Le cycliste venant à contresens doit s'arrêter, et monter sur le trottoir au besoin.
- C. Le cycliste. La voiture doit s'arrêter pour permettre le croisement.

QUESTION 10 :

Quelle est \pm la distance d'arrêt d'un bus qui circule à 30km/h ?



- A. 6 mètres
- B. 8 mètres
- C. 12 mètres

QUESTION 10 :

Quelle est \pm la distance d'arrêt d'un bus qui circule à 30km/h ?



- A. 6 mètres
- B. 8 mètres
- C. 12 mètres

